

2x hall savann


12x 6x 4x sinine vesi -sinine

12x 6x beez kivid - beez

12x 6x 4x heleroheline põõsad - heleroheline

Pikkus 3 nappu
Kõrgus 1 klot
Laius 1 napp


1. Hall plaat on savann. Kui suur on terve savann? Mitu nappu?




2. Ehita savann, millest üks osa on kaetud veega, üks osa kividega ja üks osa põõsastega. Kui suur on iga osa? Aruta, ehita ja kirjelda.



3. Ehita savann, millest pool on kaetud põõsastega, veerand on kaetud veega ja ülejäänud osa on kaetud kividega. Kui suur on iga osa? Aruta, ehita ja kirjelda.



4. Ehita savann, millest üks pool on kaetud veega ja teine pool põõsastega. Kui suur on iga osa? Aruta, ehita ja kirjelda.



Ma oskan tervikut jagada osadeks



*Ehita savann ja kirjelda seda, kasutades sõnu pool ja veerand.