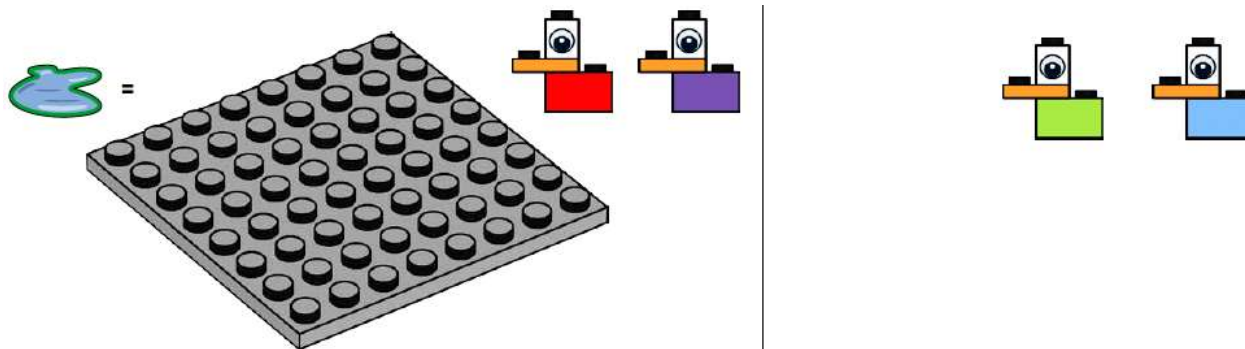





Tiik ja pardid



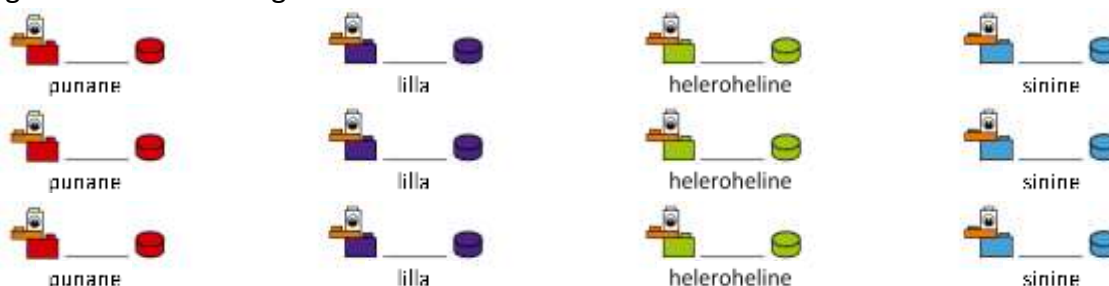
1. Neli parti elavad tiigis. Igale pardile on jaotatud tiigist võrdne ala. Näita, kui suur on iga pardi ala, kasutades iga pardi jaoks erinevat värvi klotse. Mitu nuppu on igal alal? Joonista diagramm.



2. Neli parti elavad tiigis. Ühel pardil on pool tiigist, teise pardi ala on veerand tiigist ja kaks parti jagavad ülejäänud osa võrdelt. Mitu nuppu on igal alal? Joonista diagramm.



3. Ühel päeval lendas part, kellele kuulus pool tiigist, ära. Kolm alles jäänud parti tahtsid jagada tema osa tiigist omavahel. Paku vähemalt 3 erinevat võimalust. Mitu nuppu on igal alal? Joonista diagramm.



Me oskame teineteist aidata tiigi mudeli ehitamisel ja jagamisel



*Leia veel viise, kuidas neli parti saaksid omavahel tiiki jagada. Mitu nuppu kuulub igale pardile?

Tõlgitud ja kohandatud tööülesanded LEGO MoreToMaths õppekomplektist